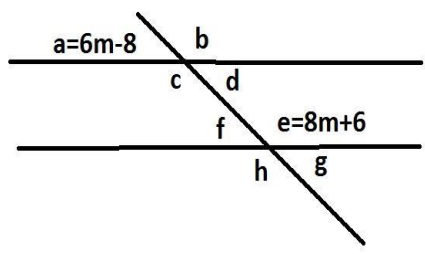



2QUIZ_SABER_8º

ID	Questions	Question Image
1 <input type="radio"/> <input type="radio"/> <input type="radio"/> <input type="radio"/>	<p>El valor de m en la imagen es:</p> <p>_____</p> <p>A. 10</p> <p>B. 11</p> <p>C. 12</p> <p>D. 13</p>	
2 <input type="radio"/> <input type="radio"/> <input type="radio"/> <input type="radio"/>	<p>La maqueta del barrio Jorge Eliezer Gaitan tiene remarcado con rojo las vías principales de acceso, ¿Cual es el valor de los ángulos A=k+3, B=6k+3 y C=3k+4? respectivamente. _____</p> <p>A. 15°, 95° y 70°</p> <p>B. 30°, 45° y 105°</p> <p>C. 20°, 105° y 55°</p> <p>D. 25°, 90° y 65°</p>	
3 <input type="text" value="I..."/>	<p>La expresión decimal que representa $5\frac{3}{4}$, corresponde a:</p> <p>ESCRIBIR CON DOS DECIMALES</p> <p>_____</p>	
4 <input type="radio"/> <input type="radio"/> <input type="radio"/> <input type="radio"/>	<p>La fracción que representa el número periodico 3,272727... _____</p> <p>A. $\frac{423}{99}$</p> <p>B. $\frac{342}{90}$</p> <p>C. $\frac{324}{99}$</p>	

D. $\frac{214}{90}$

5



La tabla representa las edades de los estudiantes de grado 8º y 9º

El valor de A en la tabla de frecuencias equivale a:

(Con 3 decimales)

EDAD	JOVENES	Ni	fi relativa	%f
13	6	6	0,285714286	28,57
14	10	16	A	B
15	4	20	0,19047619	19,05
16	1	21	0,047619048	4,76
	21			

6



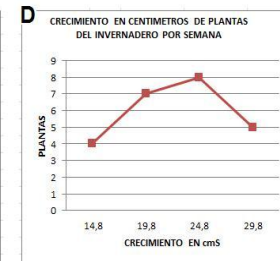
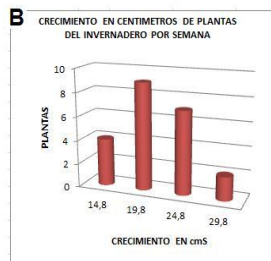
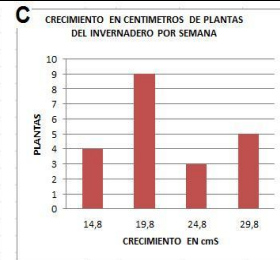
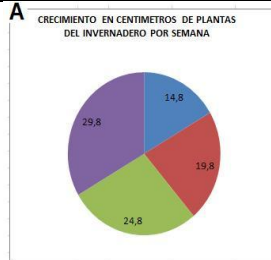
La tabla de frecuencias representa el crecimiento en centímetros por día de lagunas plnatas del invernadero

CRECIMIENTO EN CENTIMETROS DE PLANTAS DEL INVERNADERO POR SEMANA

Intervalos	Marca clase	plantas	Ni
[12,3 -17,3)	14,8	4	4
[17,3-22,3)	19,8	7	11
[22,3-27,3)	24,8	8	19
[27,3-32,3)	29,8	5	24

¿Cual de las siguientes graficas representa mejor los datos?

- A. A
- B. B
- C. C
- D. D



7



El valor decimal de $\frac{23,567}{1000}$, corresponde a